

Д. Серікбаев атындағы ШЫҒЫС ҚАЗАҚСТАН МЕМЛЕКЕТТІК
ТЕХНИКАЛЫҚ УНИВЕРСИТЕТІ

«Инженерлік графика» пәні бойынша тапсырма

Тапсырма: Құбырлық қосылысты орындау

Ескерту: Бұл тапсырманы орындамас бұрын 9-аптада ұсынылған дәрісті оқып шығу керек. Бақылау жұмысына тапсырма жеке-жеке нұсқа бойынша беріледі.

1-кестеден нұсқа бойынша D_{θ} -мәнін таңдағаннан кейін, осы D_{θ} -мәні бойынша 2-кестеден құбыр және қосушылардың қажетті конструкторлық өлшемдерін аламыз. Нұсқа бойынша қосушы фитингті (1-сурет) таңдаймыз. Өлшемдердің барлығы мм берілген. 1-6 аралығындағы нұсқалар масштабты екі есе үлкейтіп аламыз.

Таңдалынған өлшемдер бойынша құбыр қосылысының сызбасын орындау. Қимасын орындау. Негізгі өлшемдерін қою. Стандарт бөлшектерді сипаттап жазу. Тапсырма А3 форматында (үлгі 3-суретте көрсетілген) орындалады.

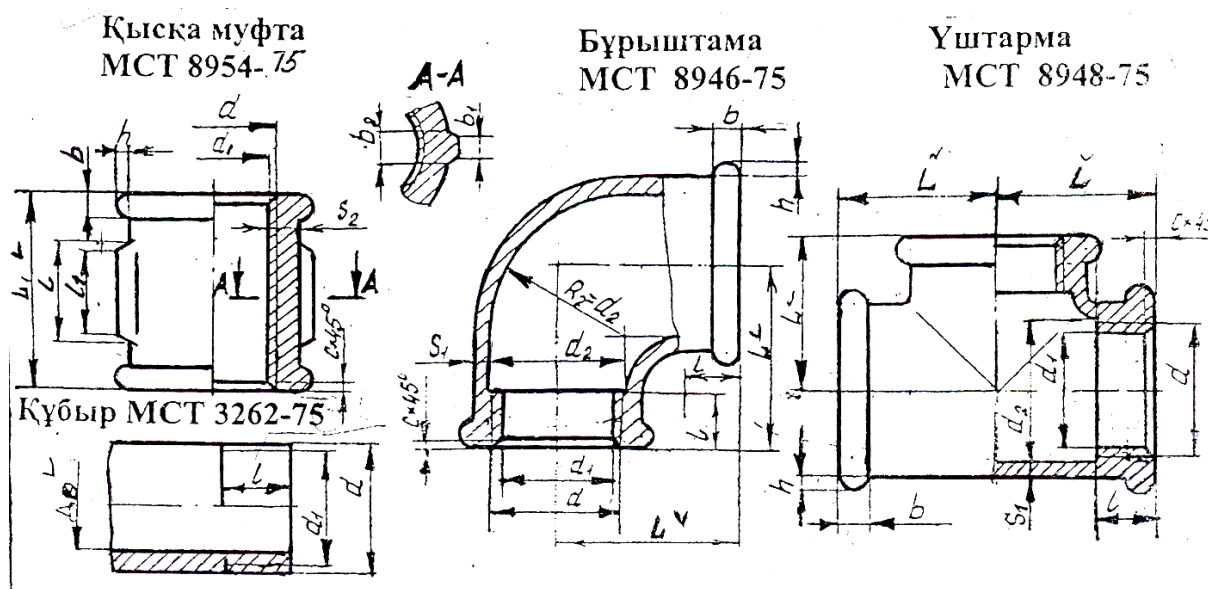
Құбырлы қосындыларға арналған тапсырма:

Кесте 1- Құбыр өлшемдері (МЕСТ 3262-75)

Нұсқа №	Шартты өту (құбырдың өтпелі қуысы) D_{θ} - мм	Қосушы МЕСТ - бойынша	Нұсқа №	Шартты өту D_{θ} - мм	Қосушы МЕСТ - бойынша
1	8	8954-75	16	32	8954-75
2	8	8948-75	17	32	8946-75
3	8	8946-75	18	32	8948-75
4	10	8954-75	19	40	8954-75
5	10	8946-75	20	40	8946-75
6	10	8948-75	21	40	8948-75
7	15	8946-75	22	50	8954-75
8	15	8948-75	23	50	8946-75
9	15	8954-75	24	50	8948-75
10	20	8946-75			
11	20	8948-75			
12	20	8954-75			
13	25	8946-75			
14	25	8948-75			
15	25	8954-75			

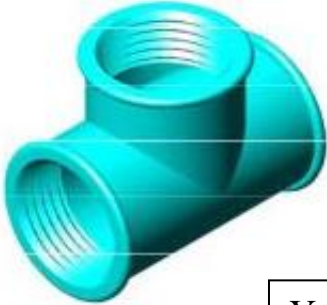
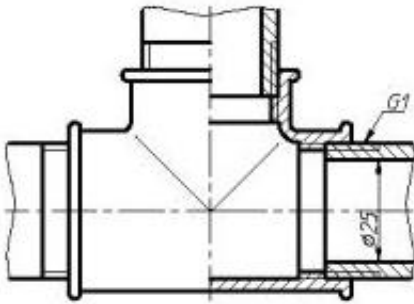
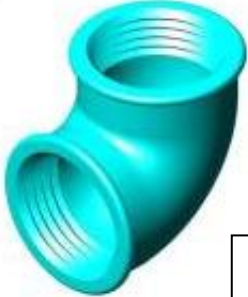
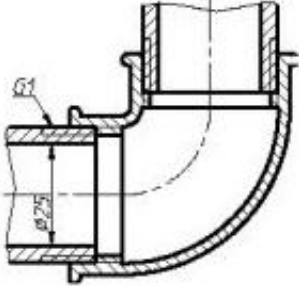

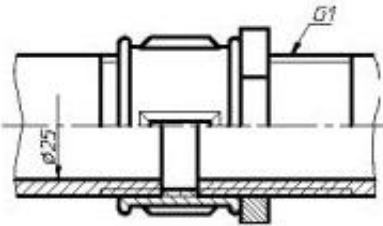
2-кесте - Құбыр және қосушылардың конструкторлық өлшемдері

D _o	Белгі ленуі	d	d ₁	d ₂	ℓ	ℓ ₁	S ₁	S ₂	b	b ₁	b ₂	C	L	L ₁	h	Қабыр ға саны
8	G1/4	13,1 58	11,4 46	13,5	9,0	7,0	2,5	3,5	3,0	2,0	3,5	1,5	21	22	2	2
10	G3/8	16,6 63	14,9 57	17,0	10,0	8,0	2,5	3,5	2,0	2,0	3,5	1,5	25	24	2	2
15	G3/8	20,9 56	18,6 32	21,4	12,0	9,0	2,8	4,2	3,5	2,0	4,0	2,0	28	28	2	2
20	G3/8	26,4 42	24,1 19	27,0 7	13,5	10,0	3,0	4,4	4,0	2,0	4,0	2,0	33	31	2	2
25	G1/4	33,2 50	30,2 52	34,0	15,0	11,0	3,3	5,2	4,0	2,5	4,5	2,5	38	36	2,5	4
32	G3/8	41,9 12	38,9 54	42,5	17,0	13,0	3,6	5,4	4,0	2,5	5,0	2,5	45	39	3	4
40	G3/8	47,8 05	44,8 47	48,5	19,0	15,0	4,0	5,8	4,0	3,0	5,0	2,5	50	43	3	4
50	G3/8	59,6 16	56,6 59	60,5	21,0	17,0	4,5	6,4	5,0	3,0	6,0	2,5	58	47	3,5	6

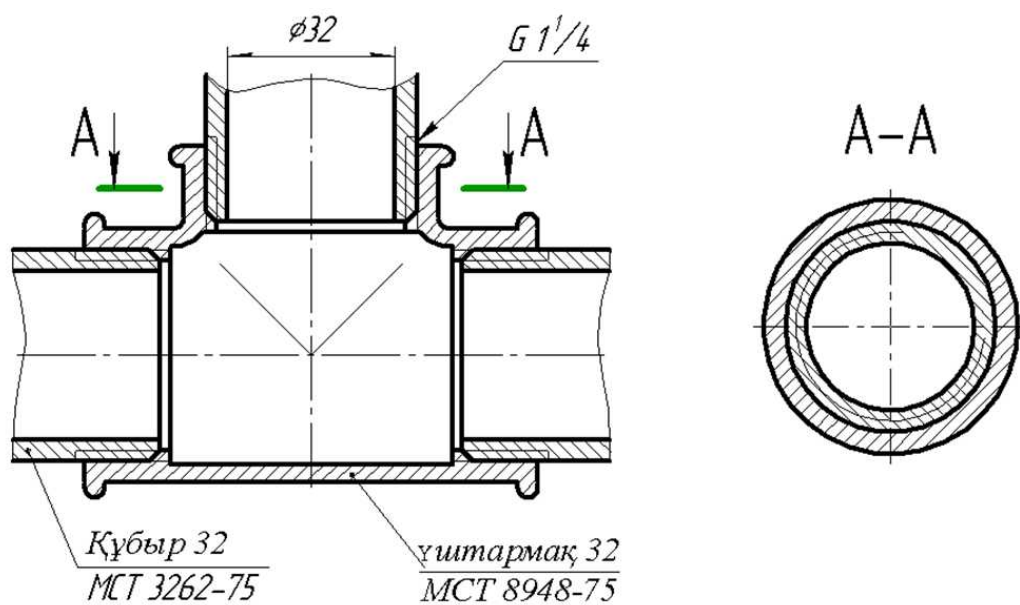


1-сурет-Қосушы фитингтер

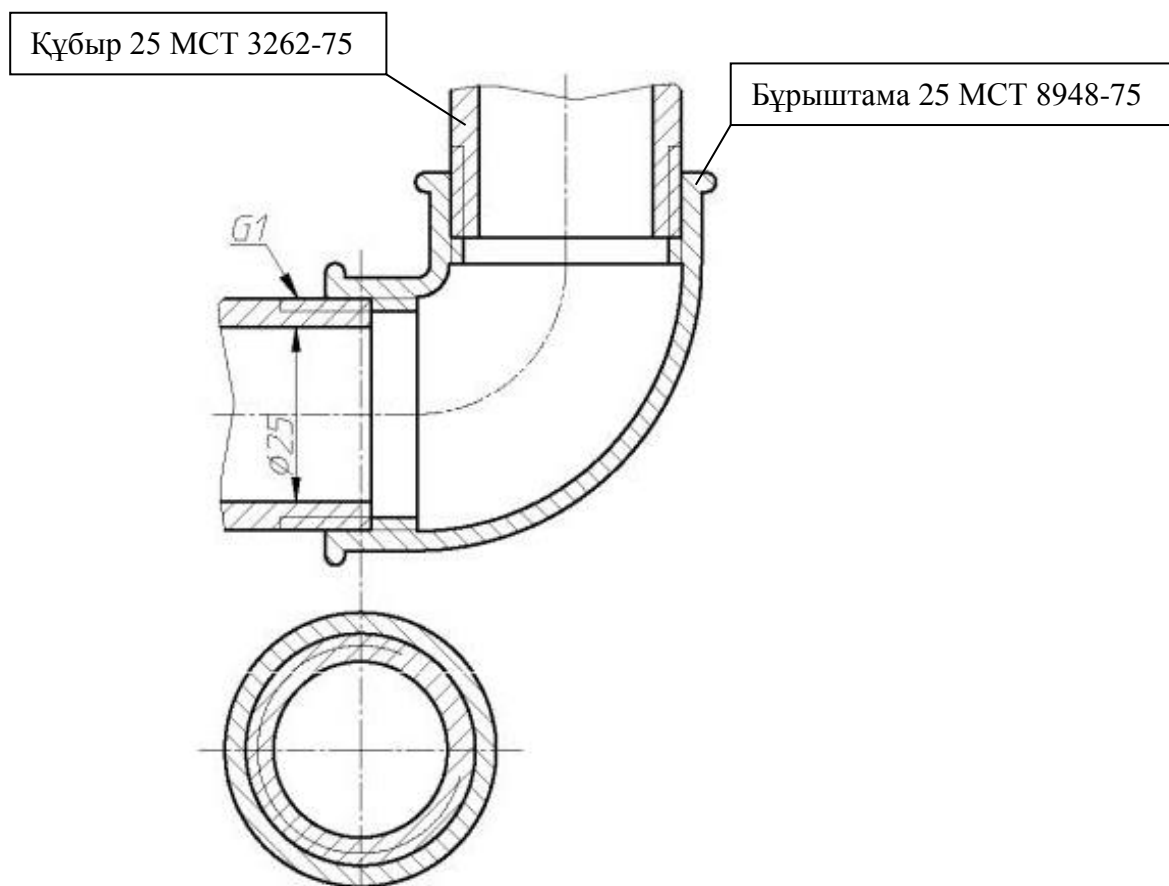
Қосушы фитингтер

 <div data-bbox="655 593 868 667" data-label="Caption"> <p>Үштарма</p> </div>	
 <div data-bbox="609 918 855 992" data-label="Caption"> <p>Бұрыштама</p> </div>	
 <div data-bbox="727 1249 863 1301" data-label="Caption"> <p>Муфта</p> </div>	

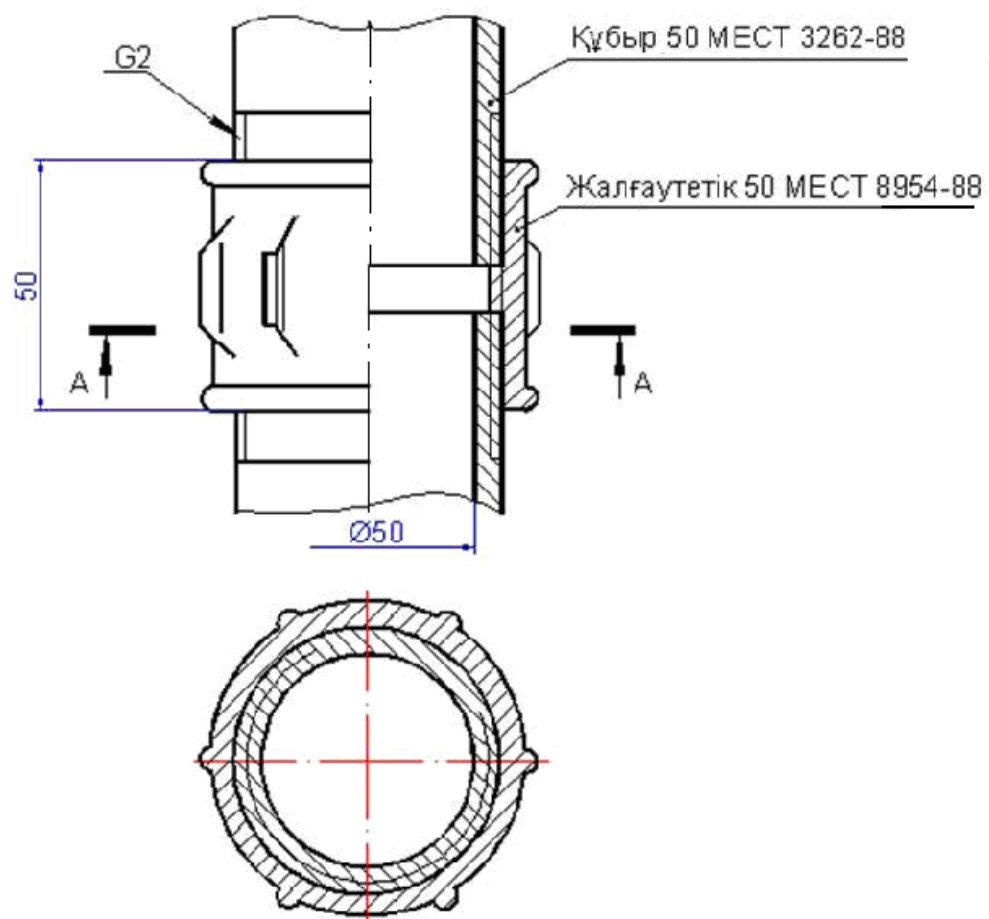
2-сурет - Құбырлық қосылыстар



а) Үштармамен



б) Бұрыштамамен



в) жалғаутетікпен (муфтамен)

3-сурет - Құбырлық қосылыстарды орындау үлгілері